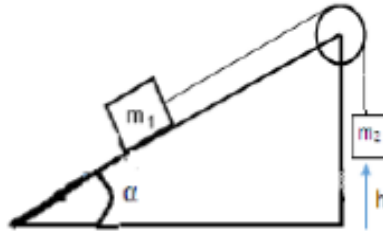


السلسلة 4التمرين 1:

كثتان m_1 و m_2 مرتبطتان بخيط غير قابل للتمطيط و الذي يمر على بكرة مهملة الكتلة و ذات محور ثابت. الكتلة m_1 تنزلق على مستوي مائل غير أملس يشكل $\alpha = 30^\circ$ مع الأفق مع العلم أن معاملات الاحتكاك الساكنة و الحركية هي على الترتيب $\mu_s = 0.7$ و $\mu_d = 0.3$.

نأخذ: $g = 9.8m/s^2$ و $m_1 = 1kg$. (الشكل 1)

- 1 - أحسب الكتلة الدنيا m_{2min} التي تحافظ على توازن النظام.
- 2 - نأخذ الآن الكتلة $m_2 = 1.5kg$ نتركها حرة بدون سرعة ابتدائية من ارتفاع h لمدة ثابنتين.
 - أحسب التسارع الناتج عن الكتلتين .
 - أحسب الارتفاع h .
 - أوجد سرعات الكتلتين حتى ترتطم الكتلة m_2 بالأرض.

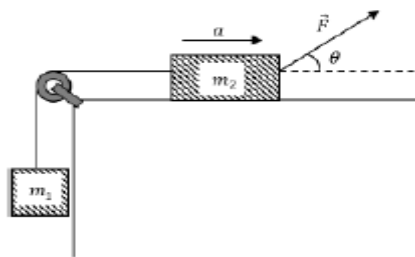


الشكل 1

التمرين 2:

لنعتبر جسم ذو كتلة m_1 كنقطة مادية يستطيع الانزلاق على مساحة أفقية مع معامل حركي μ_c إحدى نهايته موصولة بخيط غير قابل للتمطيط مهمل الكتلة يمر على محز بكرة كتلتها مهملة نهايته مربوطة بكتلة ثانية m_2 (الشكل 2). بتطبيق قوة جر F و التي تشكل زاوية θ مع الأفق.

- أوجد تسارعات الكتلتين؟



الشكل 2

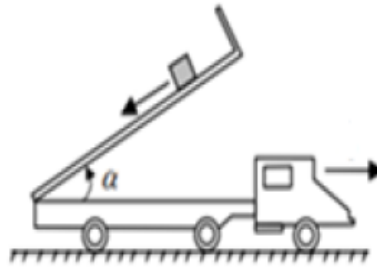
التمرين 3:

نعتبر شاحنة ثابتة ذات حيز حمولة للتفريغ. نضع في حيز الحمولة طوب كتلته $m = 3\text{kg}$. ترفع الشاحنة حيز الحمولة تدريجيا. معاملات الإحتكاك الساكن و المتحرك بين حيز الحمولة و الطوب على التوالي:

$$\mu_s = 0.6 \text{ و } \mu_c = 0.3$$

- أحسب زاوية حد الميل α_0 لحيز الحمولة مع الأفق لكي يسبب انزلاق الطوب.

- إذا كان $\alpha = 45^\circ$, أحسب تسارع الطوب. نعطي $g = 10\text{m/s}^2$



الشكل 3

التمرين 4:

نعتبر جسم ذو كتلة M مرتبط بجسم آخر ذو كتلة $m = 2\text{Kg}$ عن طريق خيط غير قابل للتمطيط كتلته مهملة. و ليكن نابض ثابت مرونته $K = 150\text{N/m}$ كتلته مهملة مربوط بالكتلة m من جهة و بالحائط من الجهة الأخرى.

1 - باعتبار احتكاك الكتلة m مهمل على المستوي الأفقي، أحسب حرفيا التسارع الناتج عن النظام و كذلك توتر الخيط.

2 - باعتبار الإحتكاكات غير مهملة و النابض غير مستطيل. ماهي القيمة العظمى للكتلة M المعلقة التي من أجلها يبقى النظام في حالة سكون. يعطى معامل الإحتكاك السكوني $\mu_s = 0.6$

3 - نأخذ الآن الكتلة $M = 3\text{Kg}$ نعتبر النابض استطال بقيمة 10cm . أحسب تسارع النظام و كذلك توتر الخيط مع العلم أن معامل الإحتكاك الحركي $\mu_d = 0.6$